








Repasamos **las decenas y las unidades**. Los que no lo puedan o no quieran imprimir, pueden dibujarlos en el cuaderno de pauta y resolverlos allí.

Tienen que rodear o pintar grupos de 10 (pueden usar diferentes colores para cada grupo) y después escribir cuántas decenas y unidades hay en cada grupo y qué número hay en total.

## Grupos de 10

 <p style="text-align: right;"><b>2 D + 4 U = 24</b></p>	
 <p>___ Decenas + ___ Unidades = ___</p>	 <p>___ Decenas + ___ Unidades = ___</p>
 <p>___ Decenas + ___ Unidades = ___</p>	 <p>___ Decenas + ___ Unidades = ___</p>
 <p>___ Decenas + ___ Unidades = ___</p>	 <p>___ Decenas + ___ Unidades = ___</p>